

Navn:

FØLESANSEN

1. Spørgsmål

Hvad er temperatursansen?

- Sans, der kun sidder i huden på hænderne.
- Sans, der opfatter temperaturændringer.
- En absolut sans, der måler temperaturen.

2. Spørgsmål

Hvor gør sidelinjen hos fisk?

- Opfatter temperaturændringer.
- Opfatter lysets farve.
- Opfatter trykændringer.

3. Spørgsmål

Hvad reagerer smertesansen på?

- Kun på mekanisk tryk med en spids genstand.
- Kun på forbrænding eller forfrysning.
- Både på fysisk og kemisk påvirkning.

SYNSSANSEN

1. Spørgsmål

Hvilken del af øjet regulerer, hvor meget lys der kommer ind i selve øjet?

- Pupillen.
- Nethinden.
- Iris.

2. Spørgsmål

Hvor sidder synsnerven?

- Efter nethinden.
- Lige bag hornhinden.
- I linsen.

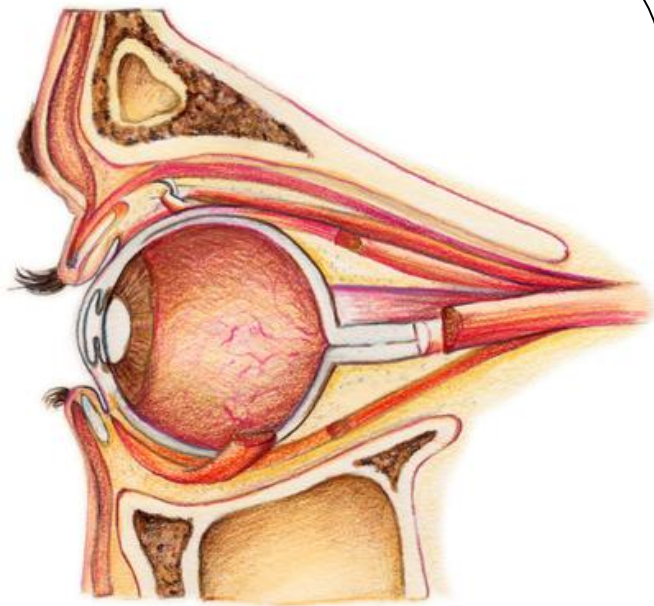
3. Spørgsmål

Hvad sker der, hvis hornhinde og linse ikke kan fokusere skarpt?

- Man får ondt i hovedet, og skal have briller eller kontaktlinser.
- Det betyder ingenting.
- Man får ondt i maven.

Hvad er hvad..?

1. Synsnerve
2. Hornhinde
3. Linsen
4. Øjeæble
5. Øjenlåg
6. Nethinde
7. Iris
8. Den gule plet



Sæt tydelige tal på tegningen

HØRESANSEN

1. Spørgsmål

Hvad indeholder mellemøret?

- Luft.
- Vand.
- Olie.

2. Spørgsmål

Hvor findes hammeren, ambolten og stigsøjlen?

- I det indre øre.
- I mellemøret.
- I det ydre øre.

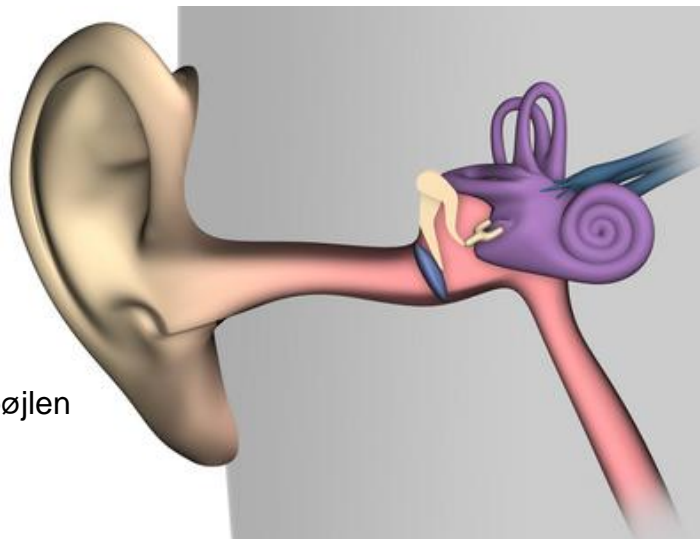
3. Spørgsmål

Hvorfor har det betydning for byttedyr, at de kan vende ørerne?

- Det styrker ørerne.
- Det gør dem i stand til bedre at kunne høre, hvis rovdyr nærmer sig fra forskellige retninger.
- På den måde undgår de regn i ørerne.

Hvad er hvad?

1. Ydre øre
2. Mellemøret
3. Indre øre
4. Trommehinden
5. Hammeren, ambolten og stigsøjlen
6. Øresneglen,
7. Hørenerve

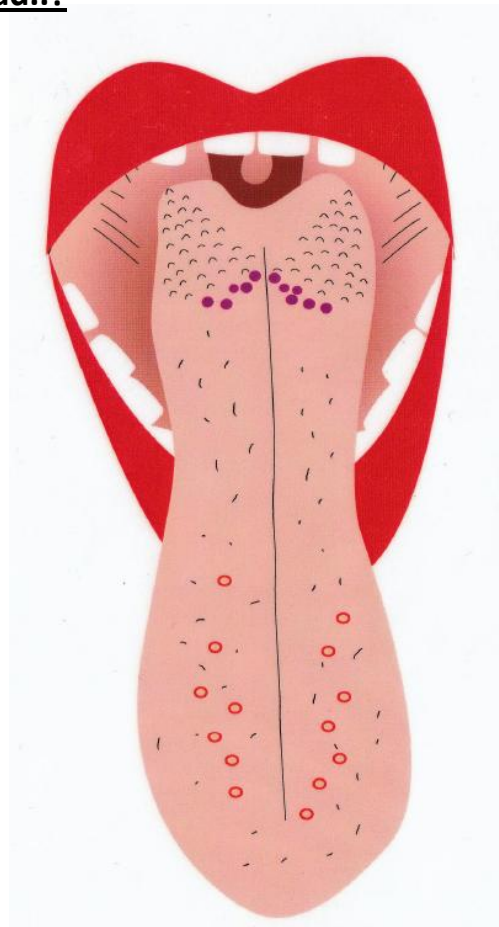


Sæt tydelige tal på tegningen

SMAGSSANSEN

Hvor smager du hvad..?

Markér og sæt tal



LUGTESANSEN

Beskriv sammenhængen mellem smagssansen og lugtesansen

LIGEVÆGTSSANSEN

Hvor sidder – og hvordan virker – ligevægtssansen..?

SYNSSANSEN

Hvad er den blinde plet – og beskriv et forsøg, der illustrerer den.