


# Industri



**1** Skriv eksempler på, hvad du synes er de største forskelle på håndværk og industri.

---

---

---

**2** Skriv eksempler på, hvad du synes er de største forskelle på industri og landbrug.

---

---

---

## Lokaliseringsfaktorer

**3** Lav et skema over lokaliseringsfaktorerne, hvor du for hver af faktorerne skriver, hvad de går ud på, og giver eksempler på industrier, hvor de betyder meget for placeringen af en virksomhed.

Lokaliseringsfaktor	Denne faktor betyder	Eksempler på virksomheder



## Danmarks industri

**4** Giv eksempler på industrier, der i dag løser opgaver, der tidligere blev løst i landbruget, og forklar, hvorfor det er sket.

Industribranche: \_\_\_\_\_

Forklaring: \_\_\_\_\_

\_\_\_\_\_

\_\_\_\_\_

Industribranche: \_\_\_\_\_

Forklaring: \_\_\_\_\_

\_\_\_\_\_

\_\_\_\_\_

Industribranche: \_\_\_\_\_

Forklaring: \_\_\_\_\_

\_\_\_\_\_

\_\_\_\_\_

**5** Hvilke industribrancher beskæftiger flest ufaglærte?

1: \_\_\_\_\_ 2: \_\_\_\_\_ 3: \_\_\_\_\_

Hvorfor gør de mon det? \_\_\_\_\_

\_\_\_\_\_

**6** Hvilke industribrancher beskæftiger flest faglærte?

1: \_\_\_\_\_ 2: \_\_\_\_\_ 3: \_\_\_\_\_

Hvorfor gør de mon det? \_\_\_\_\_

\_\_\_\_\_

**7** Hvilke industribrancher beskæftiger flest funktionærer?

1: \_\_\_\_\_ 2: \_\_\_\_\_ 3: \_\_\_\_\_

Hvorfor gør de mon det? \_\_\_\_\_

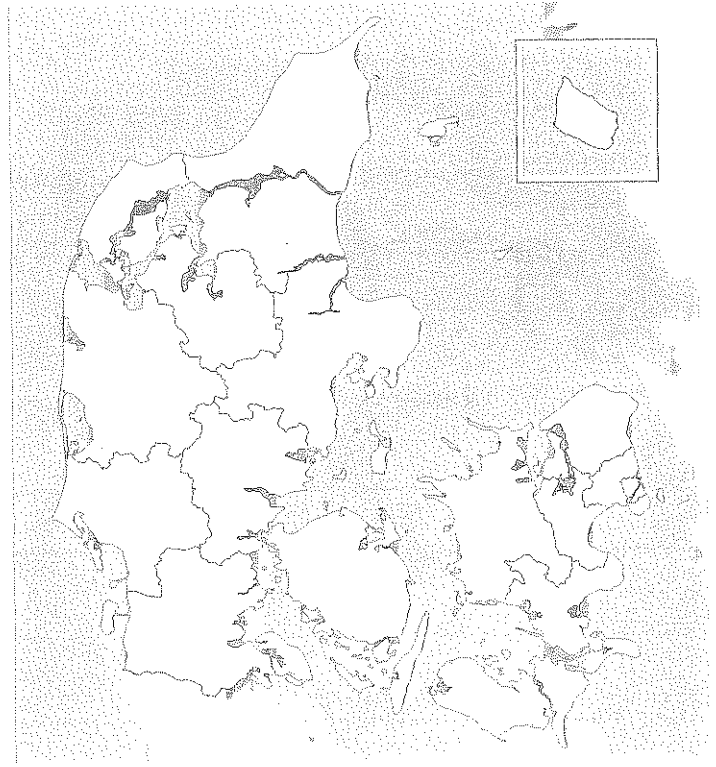
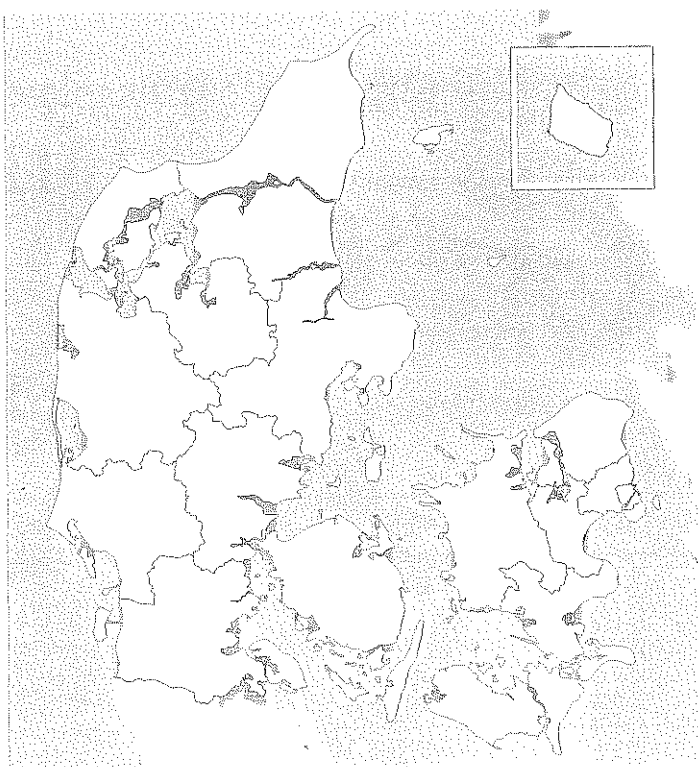
**8** Hvilke tre industribrancher beskæftiger flest mennesker?

1: \_\_\_\_\_ 2: \_\_\_\_\_ 3: \_\_\_\_\_

**9** Hvilke tre industribrancher beskæftiger færrest mennesker?

1: \_\_\_\_\_ 2: \_\_\_\_\_ 3: \_\_\_\_\_

**10** Farv et konturkort for hver industribranche: Amter med faglærte skal være røde, amter med ikke faglærte skal være blå.  
Skriv en kort tekst med forklaring under hvert kort.



\_\_\_\_\_

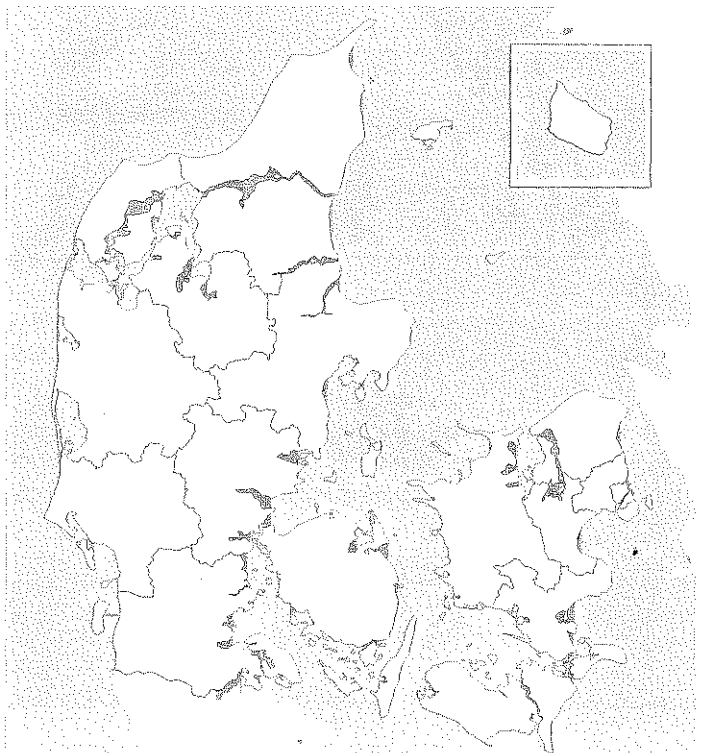
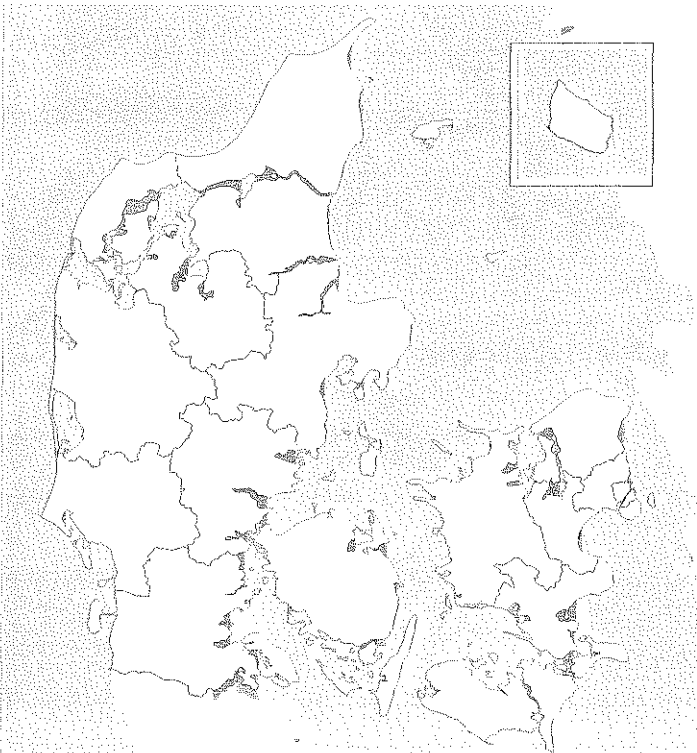
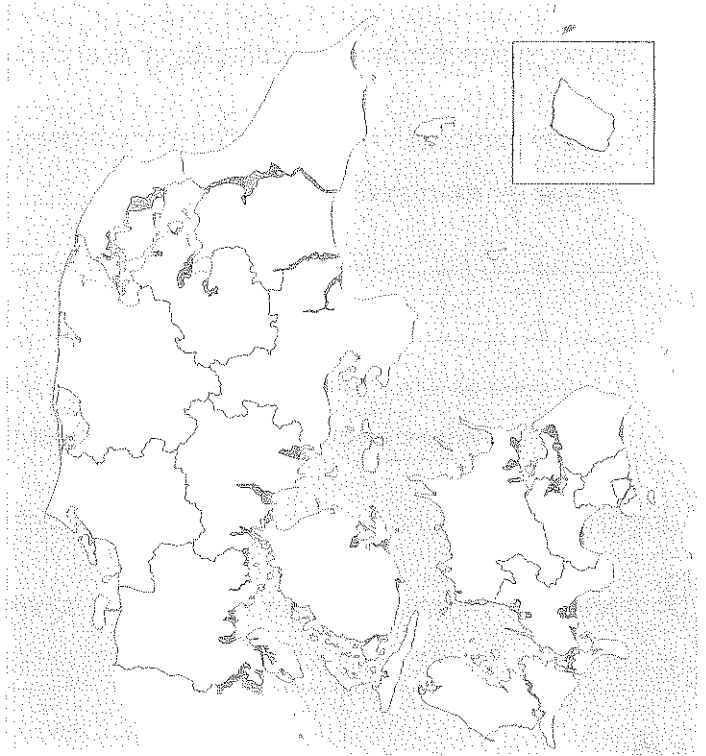
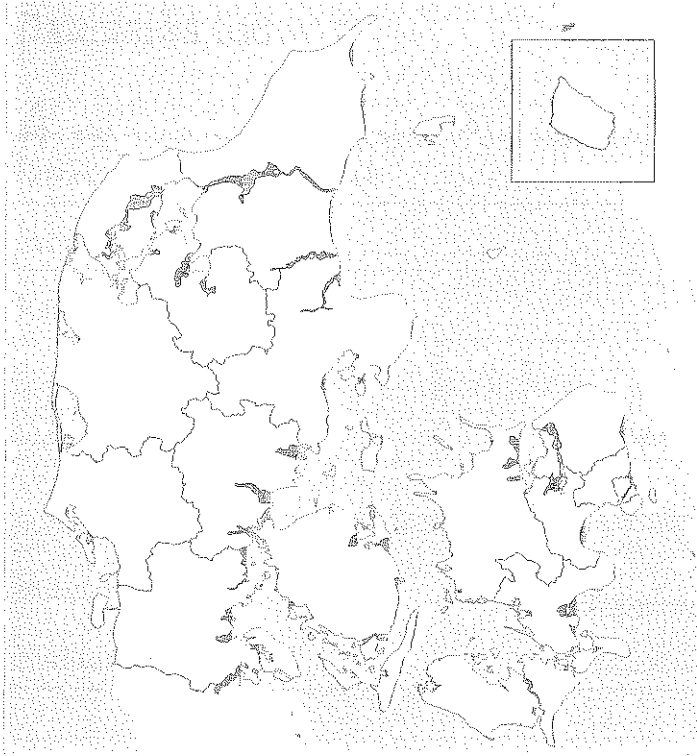
\_\_\_\_\_

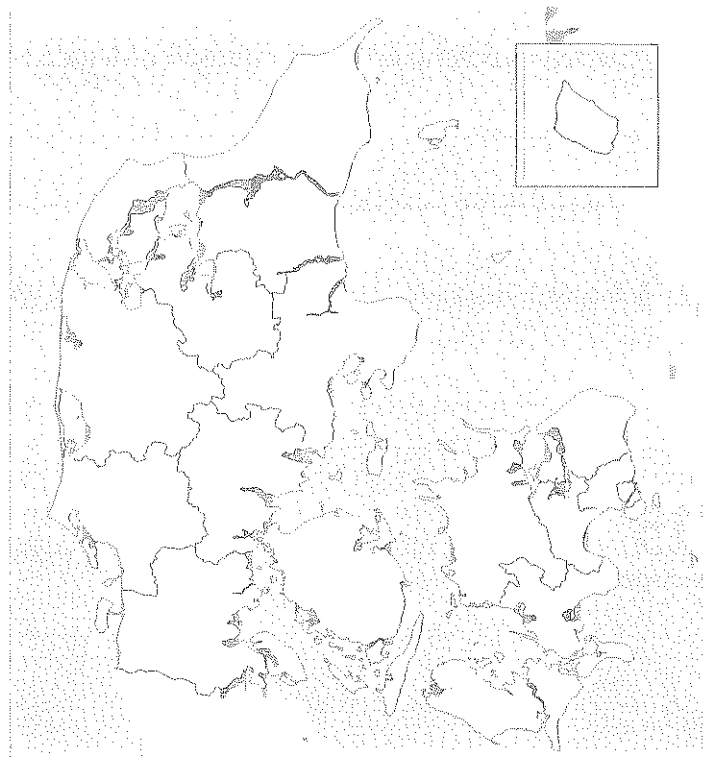
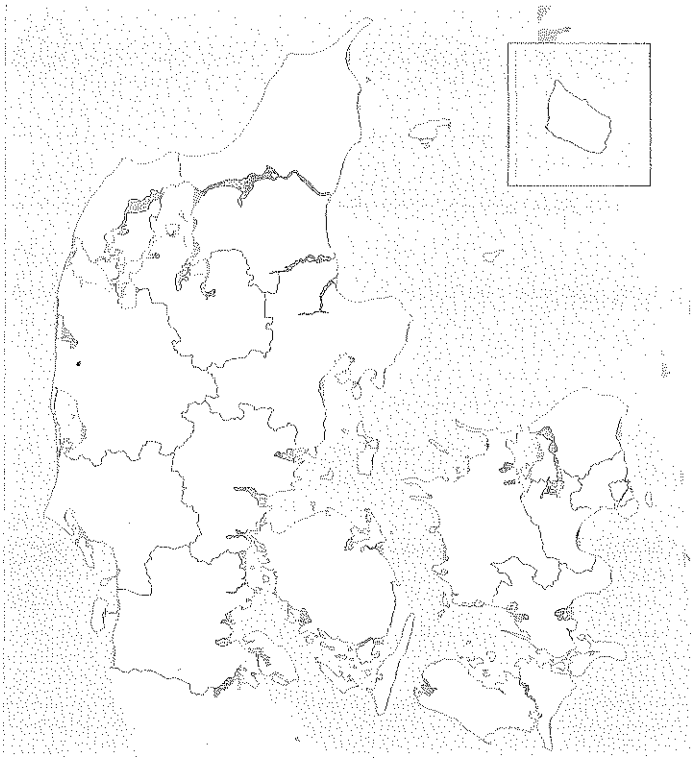
\_\_\_\_\_

\_\_\_\_\_

\_\_\_\_\_

\_\_\_\_\_





**Regionalt spot: Manufacturing Belt, USA**

**11** Find i et atlas, hvad staterne i Manufacturing Belt hedder, og skriv dem herunder:

**12** Find i et atlas oplysninger til udfyldning af skemaet herunder om de store søer i Manufacturing Belt.

Søens navn	Længde i km (ca.)	Vigtige havnebyer ved søen

**13** Skriv navnene på millionbyerne i Megalopolis:

---

---

**14** Skriv navnene på millionbyerne i Den industrielle Kerne:

---

---

**15** Hvordan er forholdet mellem byerne og industrien forskellig i Megalopolis og Den industrielle Kerne?

---

---

---

**16** Hvilke forskelle er der mellem de første industrier og nutidens industrier i Megalopolis?

---

---

**17** Hvad var det karakteristiske ved de første industrier i Den industrielle Kerne, og hvorfor opstod de i dette område?

---

---

---

**18** Hvilke råstoffer er de vigtigste for sværindustrien?

---

---

**19** I hvilke dele af Manufacturing Belt findes de især? (Se også i atlas).

---

---

**20** Hvilke teknologiske ændringer er der sket i jernudsmeltningen af betydning for lokaliseringen?

---

---

**21** Vil det ændre jern- og stålindustriens fremtidige lokalisering? Find argumenter både for og imod!

---

---

**22** Hvilke ændringer er der sket i arbejdskraftens betydning – og hvorfor?

---

---

**23** Hvor i Manufacturing Belt finder vi især tekstilindustri – og hvorfor?

---

---

**24** Hvor i Manufacturing Belt finder vi især aluminiumsværker – og hvorfor?

---

---

**25** Hvor i Manufacturing Belt finder vi især kemisk industri – og hvorfor?

---

---

**26** Hvor i Manufacturing Belt finder vi forskellige typer kraftværker – og hvorfor?

---

---

**27** Hvor i Manufacturing Belt finder vi især levnedsmiddelindustri – og hvorfor?

---

---

**Regionalt spot: Mellemsibirien, Rusland**

**28** Giv eksempler på ligheder og forskelle på industrierne i USA og i Rusland:

---



---



---

**29** Skriv navn på og anlæggelsesperioder for de to store jernbaner, der gennemskærer Sibirien:

1: 

---

2: 

---

**30** Skriv i skemaet eksempler på Mellemsibiriens resurser og de industrier, der udnytter dem:

Resurser	Udnyttelse
<hr/>	<hr/>
<hr/>	<hr/>
<hr/>	<hr/>
<hr/>	<hr/>
<hr/>	<hr/>

**31** Hvilke konsekvenser havde 2. Verdenskrig for placeringen af Ruslands industri?

---



---



---

**32** Hvilke to problemer fulgte med udnyttelsen af vandkraften efter konstruktionen af dæmningen over Angara og de tilknyttede industrier?

---



---



**33** Hvilke andre muligheder har været overvejet for at producere elektricitet i området?

---

---

Hvorfor blev de opgivet? \_\_\_\_\_

---

---

**34** Hvad er TPK? Hvor mange er der af dem? Hvorfor er de blevet opført?

---

---

---

---

**35** Hvad har Manufacturing Belt og Mellemsibirien tilfælles som grundlag for deres industrier?

---

---

Hvad gør dem alligevel forskellige? \_\_\_\_\_

---

---

**36** Hvor i verden kan man finde andre industriregioner, der er knyttet til tilsvarende resurser?

---

---

---

---